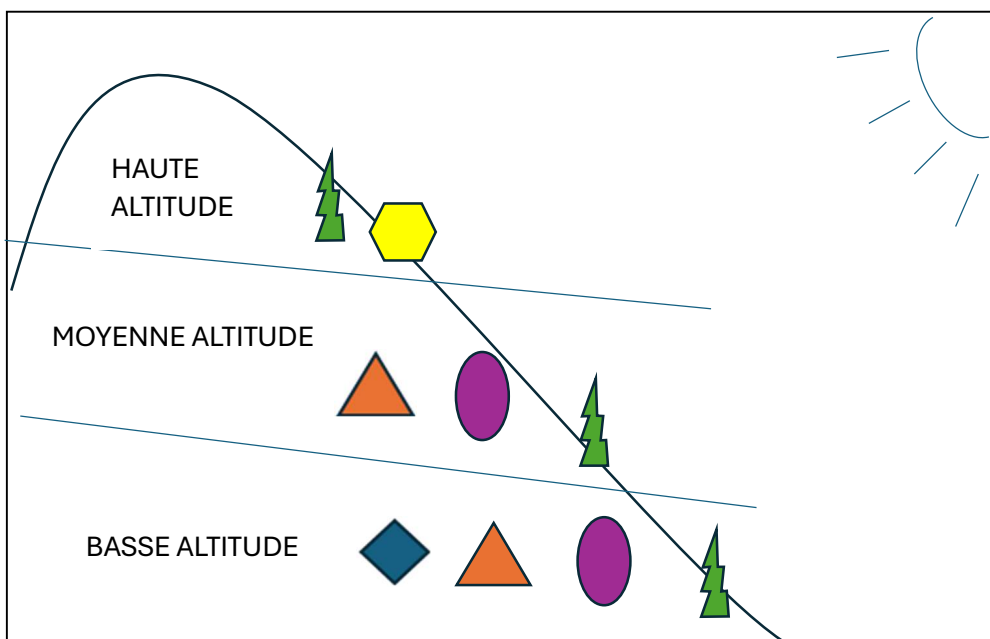


3 – Edificà

Edificà met en avant l'utilisation des plantes, notamment le bois, dans la construction du patrimoine.

1 – Le bois utilisé traditionnellement pour la construction provient de différentes essences réparties selon l'altitude. Sauras-tu les placer sur le schéma ? Invente un symbole pour chaque espèce, note le dans la légende et complète le schéma.

Répartition schématique des essences selon l'altitude



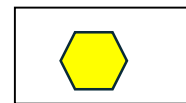

Chêne liège

Olivier

Châtaignier

Pin

Hêtre



Ton symbole n'a pas besoin de ressembler aux arbres qu'ils représentent, tu peux choisir des formes très simples comme des ronds, des carrés, des triangles,...

2 – Cite trois espèces d'arbres utilisées à la fois en construction et pour l'alimentation des animaux et des êtres humains.

Châtaignier, olivier, noyer, chêne, hêtre

3 – De quel bois étaient traditionnellement faites les chaises ?

Avant le châtaignier, elles étaient traditionnellement faites de bois de hêtre.

4– Quel est traditionnellement le bois le plus utilisé pour la construction des charpentes et des planchers ?

Le châtaignier

5 – Pourquoi utilisait-on du bois d’aulne pour la construction des roues des moulins ?

Parce qu’il ne pourrit pas dans l’eau.

6 – Dans certains endroits où cet arbre poussait en grande quantité, son bois était utilisé pour confectionner les linteaux de porte. De quel arbre s’agit-il ?

Le genévrier



u ghjineparu

